

中文姓名: _____

15(32)-2

英文姓名: _____

成績: _____

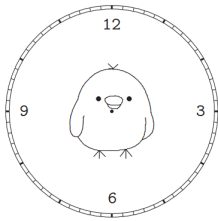
$$\begin{array}{r} 7 \square \\ - 23 \\ \hline \square 2 \end{array}$$

$$\begin{array}{r} 62 \\ + \square 7 \\ \hline 8 \square \end{array}$$

16	16
+ 13	+ 19

1. Please draw the clock hands:

1. 画时针跟分针:



三点三十分。

03 : 30.

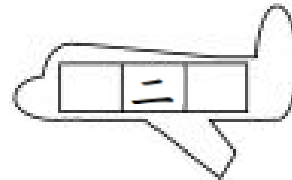
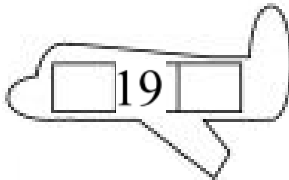
2. Please write down what time it is:

2. 这是几点?



Please write down before and after numbers:

For calendar question: before number is yesterday's date & after number is tomorrow's date.



1.Q: 今天是几月几号/日?

1.A: _____

1.Q: 今天星期几?

1.A: _____

2.Q: 明天是几月几号/日?

2.A: _____

2.Q: 明天星期几?

2.A: _____

3.Q: 昨天是几月几号/日?

3.A: _____

3.Q: 昨天星期几?

3.A: _____

- 1. 今天是(四月十九日)
- 1. 今天是星期(二)
- 2. 明天是(四月二十日)
- 2. 明天是星期(三)
- 3. 昨天是(四月十八日)
- 3. 昨天是星期(一)